

**AÇIKLAMA**

1. Bu kitapçıkta Genel Kültür ve Genel Yetenek testi bulunmaktadır.
2. Bu kitapçıkta iki test toplam 60 sorudan oluşmaktadır.
3. Bu kitapçıkta testlerde yer alan her sorunun sadece bir doğru yanıtı vardır. Bir soru için birden çok cevap yeri işaretlenmişse o soru yanlış işaretlenmiş sayılacaktır.
4. İşaretlediđiniz bir cevabı deđiştirmek istediđinizde, silme işlemi çok iyi yapmanız gerektiđini unutmayınız.

**ADAYIN;**

**Adı – Soyadı:**

.....

**T.C. Kimlik Numarası**

.....

## Genel Kültür Soruları

1) Aşağıdakilerden hangisi İç Anadolu Bölgesi şehirlerinden **değildir**?

- A) Ankara
- B) İzmir
- C) Kırşehir
- D) Kırıkkale
- E) Yozgat

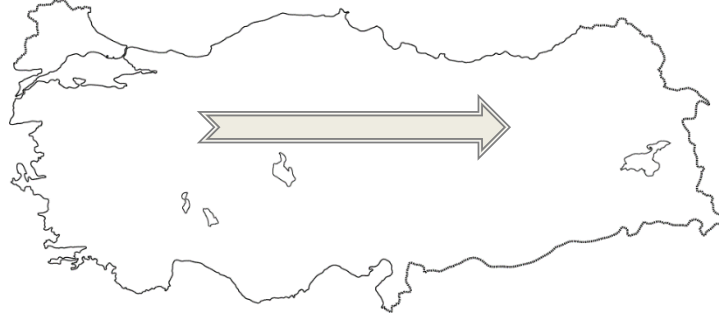
2) Dünyanın en büyük tatlı su gölü hangisidir?

- A) Baykal Gölü
- B) Van Gölü
- C) Tuz Gölü
- D) Hazar Gölü
- E) Marmara Gölü

3) Deniz turizminde başı çeken iki bölgemiz aşağıdakilerden hangileridir?

- A) Akdeniz Bölgesi- İç Anadolu Bölgesi
- B) Ege Bölgesi- Karadeniz Bölgesi
- C) Doğu Anadolu Bölgesi -İç Anadolu Bölgesi
- D) Akdeniz Bölgesi -Ege Bölgesi
- E) İç Anadolu Bölgesi -Karadeniz Bölgesi

4) Aşağıdaki haritada ok yönünde gidildiğinde haritadaki renkler **koyulaşmaktadır**. Bunun nedeni aşağıdakilerden hangisi olabilir?



- A) Denizden uzaklaşmak
- B) Ormanlık alanların artması
- C) Yüksekliğin artması
- D) Havanın soğuması
- E) Havanın ısınması

5) Aşağıdaki akarsulardan hangisi ülkemizden kaynağını **almamaktadır**?

- A) Aras
- B) Asi
- C) Kura
- D) Kızılırmak
- E) Fırat

6) Aşağıdaki özel günlerden hangisi hemen hemen tüm ülkelerde kutlanır?

- A) Gençlik ve Spor Bayramı
- B) Hava Şehitlerini Anma Günü
- C) Anneler Günü
- D) Cumhuriyet Bayramı
- E) Kurban Bayramı

7)

I. Deprem

II. Erozyon

III. Sel

Yukarıdaki doğal afetlerden hangileri insanların bitki örtüsünü bilinçsizce yok etmesi ve arazinin yanlış kullanılması sonucu ortaya çıkabilir?

- A) I ve II B) I ve III C) II ve III D) I, II ve III E) Yalnız I

8) Aşağıdakilerden hangisi ülkemizin halk oyunlarından **değildir**?

- A) Salsa
- B) Horon
- C) Misket
- D) Halay
- E) Harman dalı

9) Aşağıdakilerden hangisi Osmanlı Padişahlarından **değildir**?

- A) 4.Murat
- B) Genç Osman
- C) Vahdettin
- D) İsmet İnönü
- E) Abdulhamit

10) Mısır Piramitleri hangi geometrik şekle benzemektedir?

- A) Kare
- B) Silindir
- C) Dikdörtgen
- D) Daire
- E) Üçgen

11) Canlıların en küçük yapı taşı hangisidir?

- A) Organ
- B) Doku
- C) Hormon
- D) Hücre
- E) Kalp

12) En büyük gezegen hangisidir?

- A) Mars
- B) Merkür
- C) Dünya
- D) Plüton
- E) Jüpiter

13) Başkentimizin İl Trafik Kodu kaçtır?

- A) 01
- B) 06
- C) 16
- D) 34
- E) 35

14) Hangisi sağlıkla ilgili bir meslek **değildir**?

- A) Makinist
- B) Hemşire
- C) Ebe
- D) Hekim
- E) Laborant

15) Modern fiziğin ve astronomi biliminin kurucularından sayılan, kendi geliştirdiği teleskop ile Dünya ve gezegenlerin hareketlerini inceleyen bilim insanı kimdir?

- A) Thomas Edison
- B) Pasteur
- C) Galileo Galilei
- D) Graham Bell
- E) Albert Einstein

16) Yazdığı Geometri kitabı ile Türkçe'ye "**Acı, Dörtgen, Üçgen**" gibi terimleri kazandıran kişi kimdir?

- A) Cahit Arf
- B) Mevlana
- C) Mehmet Akif Ersoy
- D) Mustafa Kemal Atatürk
- E) İsmet İnönü

17) Dünya'nın İlk Tapınağı olan **Göbeklitepe** nerededir?

- A) Gaziantep
- B) Şanlıurfa
- C) Kahramanmaraş
- D) Batman
- E) Mardin

18) Babamızın kız kardeşi bizim neyimiz olur?

- A) Teyze
- B) Amca
- C) Babaanne
- D) Elti
- E) Hala

19) Anadolu'da kurulan ilk uygarlık hangisidir?

- A) Hititler
- B) Sümerler
- C) Karluklar
- D) Hazarlar
- E) Oğuzlar

20) İslamiyet'i kabul eden ilk Türk devleti hangisidir?

- A) Göktürkler
- B) Hazarlar
- C) Kırgızlar
- D) Uygurlar
- E) Karahanlılar



21) Osmanlı Devleti'nin ilk anayasası olan "Kanun-i Esasi" hangi padişah döneminde ilan edilmiştir?

- A) Orhan Bey
- B) 4.Murat
- C) II. Abdülhamit
- D) Genç Osman
- E) Osman Bey

22) Kâğıt, pusula, barut ve matbaayı kimler icat etti?

- A) Türkler
- B) Çinliler
- C) Japonlar
- D) İngilizler
- E) Almanlar

23) Antlaşmaların yer aldığı hangi sıralama kronolojik olarak doğrudur?

- A) Sevr Antlaşması- Mondros Ateşkes Antlaşması- Lozan Antlaşması
- B) Mondros Ateşkes Antlaşması- Sevr Antlaşması- Lozan Antlaşması
- C) Lozan Antlaşması- Mondros Ateşkes Antlaşması- Sevr Antlaşması
- D) Mondros Ateşkes Antlaşması- Lozan Antlaşması- Sevr Antlaşması
- E) Lozan Antlaşması- Sevr Antlaşması- Mondros Ateşkes Antlaşması

24) 2018 Türk Dünyası Kültür Başkenti seçilen şehrimiz aşağıdakilerden hangisidir?

- A) Adıyaman
- B) Kastamonu
- C) Nevşehir
- D) Ordu
- E) Tekirdađ

25) 2017 yılında gösterime giren hangi Türk filmi, 2018 Oscar film Ödüllerine yabancı dilde en iyi film adayı olmuştur?

- A) İstanbul Kırmızısı
- B) Ekşi Elmalar
- C) Ayla
- D) Masumiyet
- E) Üç Maymun

26) Hangi bölgemizde dođal göl bulunmamaktadır?

- A) Akdeniz Bölgesi
- B) Karadeniz Bölgesi
- C) Ege Bölgesi
- D) Güneydođu Anadolu Bölgesi
- E) İç Anadolu Bölgesi

27) Bilgisayarda yapılan işlemlerin izlendiği birime ne ad verilir?

- A) Klavye
- B) Kasa
- C) Fare
- D) Hoparlör
- E) Ekran

28) Kuzey Kıbrıs Türk Cumhuriyeti'nin başkenti neresidir?

- A) Girne
- B) Gazi Mağusa
- C) Güzelyurt
- D) Lefkoşa
- E) İskele

29) Aşağıdaki illerimizden hangisi komşu ülke sınırında **değildir**?

- A) Bursa
- B) Kars
- C) Hakkâri
- D) Edirne
- E) Gaziantep

30) Aşağıdakilerden hangisi hem kıta hem ülkedir?

- A) Asya
- B) Avrupa
- C) Antarktika
- D) Afrika
- E) Avusturalya

### Genel Yetenek Soruları

1. "Diz" kelimesi hangi seçenekte farklı anlamda kullanılmıştır?

- A) Bardakları sıraya dizdim.
- B) Öğrenciler boy sırasına göre dizildi.
- C) Annemin dizi çok ağrıyordu.
- D) Eşyaları dolaba dizdi.
- E) Ayakkabılarını renklerine göre dizdi.

2) Aşağıdaki sözcüklerden hangisi sözlükte önce gelir?

- A) Sevgisiz      B) Sevgili      C) Sevgici      D) Sevgililer      E) Sevgi

3) "Vapur Kadıköy'e yanaştı."

*Kadıköy İstanbul'un bir ilçesiyken burada iskele anlamında kullanılmıştır; yani mecaz anlamındadır. Aşağıdakilerin hangisinde böyle bir kullanım vardır?*

- A) Futbolcular kendi aralarında top oynuyorlardı.
- B) Öğretmen bir öğrenciyle konuşuyordu.
- C) Uçak Ankara'ya indi.
- D) Çevremizi temiz tutmalıyız.
- E) Balıklar suda rahatlıkla yüzüyordu.

4) "Bir sözcük isimden önce gelip, o ismi niteleyip ya da belirtiyorsa o sözcük sıfattır."

Aşağıdakilerin hangisinde **yalnız** sözcüğü sıfat (önad) görevinde kullanılmıştır?

- A) Yalnızlığım benim, çoğul türkülerim.
- B) "Yalnız Adam" filmine gittik.
- C) Sinemaya gidebilirsin; yalnız çok geç kalmayacaksın.
- D) Bu soruyu yalnız, Ahmet çözebilir.
- E) Bu çocuk düşünceli ve çok yalnızdı.

5) Dostluğun karşılıklı yakınlığında kendini dinlendirmeyen insan için hayat hayat mıdır (I) Karşısında kendinle konuşuyormuş gibi her şeyi söylemeye cesaret edebileceğin birini nasıl bulacaksın (II) İyi günlerinde senin kadar sevinecek biri var mı (III) Kara günlerinde senin kadar üzülecek bir dostun olmasaydı o günlere katlanmak ne zor olurdu (IV) Bunları düşündün mü hiç, şimdiye kadar (V)

Yukarıdaki parçada numaralı yerlerden hangisine soru işareti (?) **getirilemez?**

- A) I.
- B) II.
- C) III.
- D) IV.
- E) V.

6) "**Can atmak**" deyiminin anlamı aşağıdakilerden hangisidir?

- A) Ölmek
- B) Gülmek
- C) Akıllı olmak
- D) Çok şaşırtıcı olmak
- E) Çok istekli olmak

7) "**Çok yorulmak**" anlamına gelen deyim aşağıdakilerden hangisidir?

- A) Kan beynine sıçramak.
- B) Ağız kulaklarına varmak.
- C) Ayaklara kara sular inmek.
- D) Kulağına küpe olmak.
- E) Canını dişine takmak.

8) Aşağıdaki cümlelerden hangisi **olumsuz** bir ifade taşımaktadır?

- A) O soruya nasıl cevap verdiğimi hatırlamıyorum.
- B) Sen de yemekten alabilirsin.
- C) Bu yemeği kim yaptı?
- D) Yanına su almayı sakın unutma.
- E) Tekrar yanına uğrayacağıma söz veriyorum.

9) Aşağıdaki söz dizelerinden hangisi cümle değildir?

- A) Ali eve gitmemiş
- B) Su iç
- C) Geldim
- D) Geri getirmeyi unutma
- E) Açığa doğru yanaşmaya çalışan gemi

10) Aşağıdakilerin hangisinde soru anlamı yoktur?

- A) Alsam mı almasam mı bilemedim
- B) Kim aradı seni
- C) Kaç yaşında olduğunu söyledi mi
- D) Nereye gideceğimizi biliyor musun
- E) Erikleri kim toplamış

11) Aşağıdakilerin hangisinde sebep sonuç ilişkisi yoktur?

- A) Erkenden kalktığı için yoruldu.
- B) Komşusunun gürültüsünden uyuyamadı.
- C) Havaların ısınmasına az kaldı.
- D) Yollar kapalı olduğu için gecikti.
- E) Uykusu kaçtığı için huzursuzlandı.

12) Aşağıdaki cümlelerin hangisinde yazım yanlışı vardır?

- A) Onlar eve geldimi?
- B) Bunu yapan o muydu?
- C) Gelen sen miydin?
- D) Ahmet geliyor muydu?
- E) Annem yemek yaptı mı?

13) İkili gruplanmış kelimelerden hangisi farklı anlam ilişkisi kurmuştur?

- A) Sıcak – Soğuk
- B) Yaz – Kış
- C) Siyah – Kara
- D) Güzel – Çirkin
- E) Fakir – Zengin

14)

1- "Saklambaç oyunu çok eğlencelidir."

2- "Bu oyunu kız erkek bütün çocuklar sever."

3- "Yarın kör ebe oynayacağım."

4- "Özellikle mahalle aralarında saklambaç oynamak çok zevkli olur."

5- "Bu oyunda amaç iyi saklanıp ebe olmamaktır."

Yukarıdaki cümleler ile bir paragraf oluşturulursa kaç numaralı cümle dışarıda kalır?

A)2

B)3

C)4

D)5

E)1

Bir çiftlik evinde dedesi ve ninesiyle beraber yaşayan bir çocuk varmış. Bu çocuk hiçbir şey beğenmezmiş. Bir gün bahçede oynarken güneş tam tepesine yükselmiş. Güneş'e ne bu senden çektiğim, hemen bat demiş. Bunu duyan güneş, çok üzülmüş, hemen batmış ve her yer karanlık olmuş. O günden sonra güneş ortalıkta görünmemiş.

Dedesinin bahçesindeki ağaçlar solmuş, diğer canlılar soğuktan etkilenmiş kendisi de hasta olmuş. Çocuk hasta bir şekilde yatarken rüyasına güneş girmiş ve ona kalbini çok kırdığını söylemiş. Bunun üzerine çocuk güneşten özür dilemiş. Ertesi gün bir de bakmış ki güneş tekrardan doğmuş ve her şey eski haline dönmüş.

15) Bu metine en uygun başlık aşağıdakilerden hangisi olabilir?

A) Okulda Bir Gün

B) İki Kardeşin Yaramazlıkları

C) Yaşam Kaynağımız

D) Annem

E) Canım Kardeşim

16) Ebru ve Ersel isimlerinde kullanılan harflerin bulunduğu **kesişim kümesi** aşağıdakilerden hangisidir?

- A) {e,r}
- B) {e,b,r,u,e,r,s,e,l}
- C) {e,b,r,u,r,s,l}
- D) {b,r,u,s,l}
- E) {e,u}

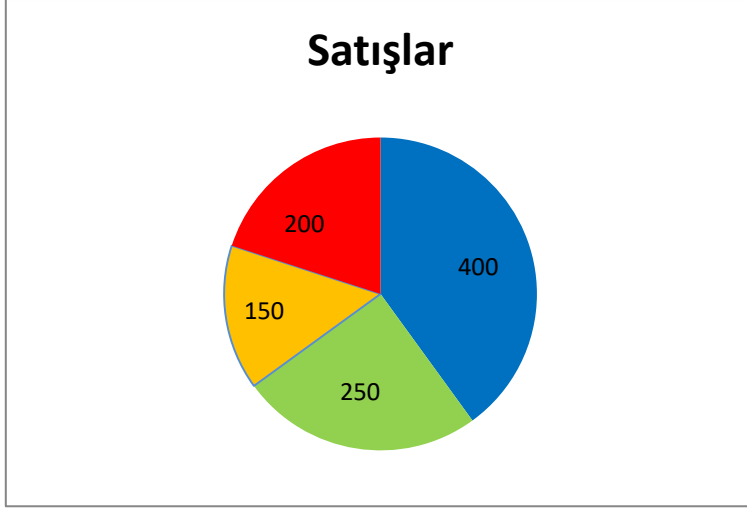
17)  $2/8$ 'i 72 olan sayı kaçtır?

- A) 18
- B) 45
- C) 67
- D) 288
- E) 300

18) 8 çeyrek, 4 yarım kaç bütün eder?

- A) 5
- B) 4
- C) 3
- D) 2
- E) 1





19)

- 2014
- 2015
- 2016
- 2017

Yukarıda ki grafiğe göre **2014** ve **2017** yıllarında toplam kaç kilo patates üretilmiştir?

- A) 400
- B) 350
- C) 650
- D) 750
- E) 1000

20) 7 - 11 - 15 - ? - 23 - 27 - 31 - ? - 39 - 43 - 47...

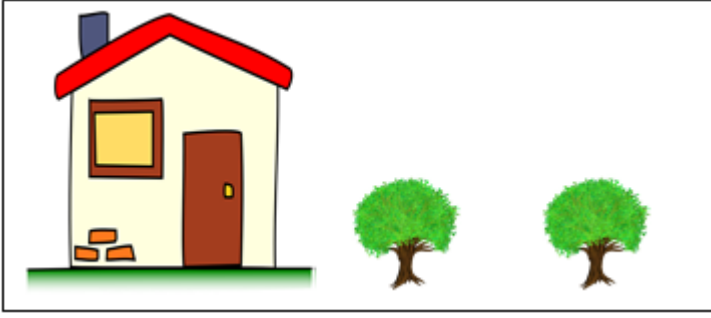
Soru işaretleri yerine gelecek sayılar hangi seçenekte **doğru olarak verilmiştir?**

- A) 17-34
- B) 19-33
- C) 20-35
- D) 19-35
- E) 21-34

21) Üç Basamaklı en büyük sayı ile dört basamaklı en küçük sayıları toplar, toplamlarından 307 sayısını çıkarırsak fark kaç olur?

- A) 1692
- B) 793
- C) 882
- D) 690
- E) 714

20 cm



22)

10 cm

Yukarıda verilen bahçenin çevresi ile alanı hangi seçenekte doğru verilmiştir?

- A) Çevre: 20 cm Alan: 30 cm<sup>2</sup>
- B) Çevre: 30 cm Alan: 30 cm<sup>2</sup>
- C) Çevre: 30 cm Alan: 100 cm<sup>2</sup>
- D) Çevre: 60 cm Alan: 30 cm<sup>2</sup>
- E) Çevre: 60 cm Alan: 200 cm<sup>2</sup>

23) Aşağıda verilen sayılardan hangisi diğerlerinden **büyüktür**?

- A) 8900 B)8901 C) 8099 D) 8909 E) 8999

24) Bir işyerinde 54 erkek işçi vardır. Kadın işçiler erkek işçilerin 3 katının yarısı kadardır. Bu işyerinde kaç kadın işçi vardır?

- A) 88
- B) 90
- C) 94
- D) 81
- E) 76

25) Müge bir alışveriş mağazasından 140 TL etiketli bir ayakkabı beğenmiştir. Kasaya gelen Müge mağazada kampanya olduğunu ve beğendiği ayakkabıyı yarı fiyatına alacağını öğrendi. Müge ayakkabı için kaç TL ödemelidir?

- A) 140 TL
- B) 70 TL
- C) 100 TL
- D) 60 TL
- E) 80 TL

26) İki sayının toplamı 477'dir. Sayılardan biri 257 ise diğer sayı kaçtır?

- A) 177
- B) 140
- C) 210
- D) 220
- E) 734

27) Ablam, manavdan 38 TL'lik alışveriş yaparak kasiyere 100 TL verdi. Kasiyer ablama kaç TL para üstü vermelidir?

- A) 52 TL
- B) 54 TL
- C) 62 TL
- D) 72 TL
- E) 65 TL

28) Bir sürüde 62 koyun ve 21 kuzu vardır. Bu sürünün 2 de çoban köpeği olduğuna göre sürüde kaç hayvan vardır?

- A) 81
- B) 82
- C) 83
- D) 84
- E) 85

29) Akrep 6'ya yaklaşıyor. Yelkovan 10'nin üzerindeyken saat kaçtır?

- A) 5.50
- B) 7.05
- C) 8.25
- D) 7.35
- E) 6.30

30)

Üstteki ? işaretli açı kaç derecedir?

- A) 110
- B) 120
- C) 100
- D) 130
- E) 140

